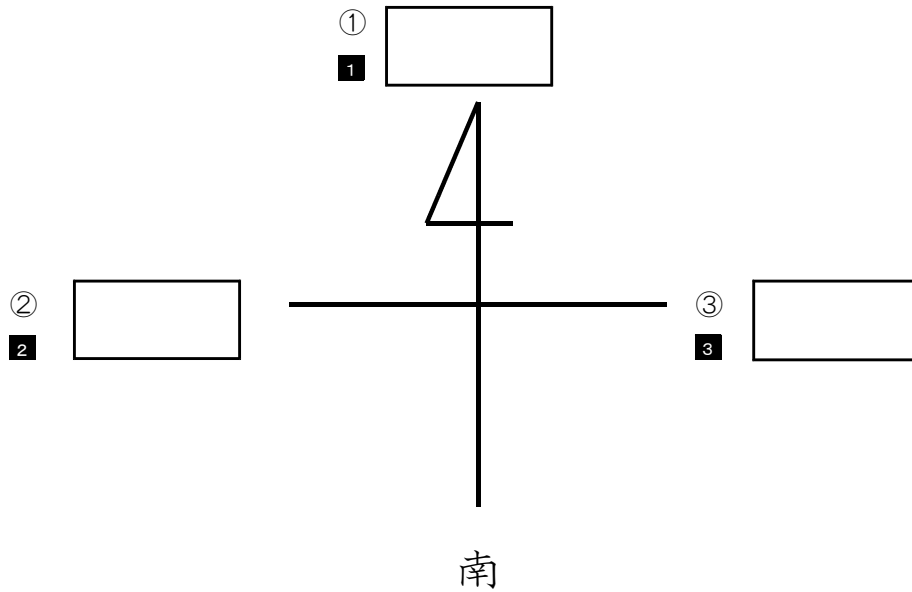


★先生方へ～解答欄の 1 ～ 9 は、問題結果登録の設問番号に対応しています。

1 次の問題に答えましょう。

(1) これは、方位を表す記号です。①～③の方位を [ ] に書きましょう。



(2) 次の①～④の地図記号は、何を表しているでしょうか。 [ ] に書きましょう。

(れい)		⇒	[ 学校 ]
①		⇒	[ 4 ]
②		⇒	[ 5 ]
③		⇒	[ 6 ]
④		⇒	[ 7 ]

※次のページにも、問題があります。

2

けいたさんたちは、まちの様子について調べて、わかったことを絵地図と表にまとめることにしました。次の問題に答えましょう。

(1) 【表】の①に入る言葉を  に書きましょう。

【絵地図】



【表】

場所	わかったこと
駅のまわり	・バスや車がたくさん走っていて多くの人でにぎわっている。
市役所のまわり	・( ① ) などの公共施設が多い。
海に面した所	・大きな工場やそうこがならんでいる。

8

①

(2) けいたさんは、場所による土地の様子と使われ方についてくらべ、考えたことをノートにまとめました。【絵地図】や【表】を見て、【けいたさんのノート】の( ② )に入る文を  に書きましょう。

【けいたさんのノート】

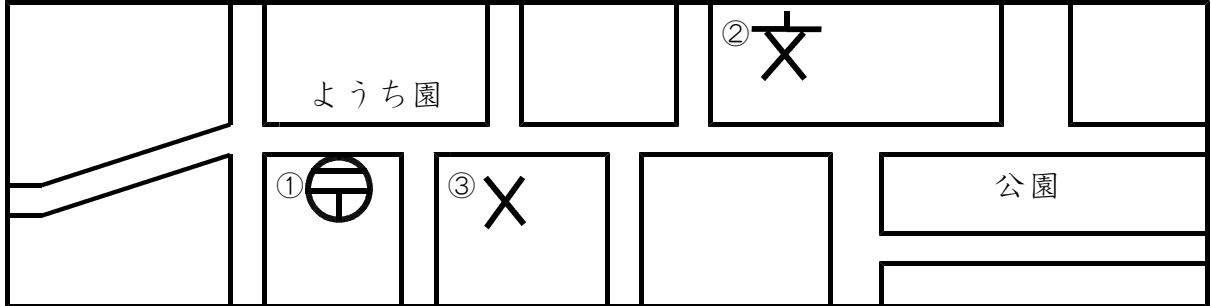
- 考えたこと
- ・学校の南の方は土地が高く、駅や商店街があるのでたくさんの人でにぎわっています。
  - ・学校の北の方に大きな工場があるのは、土地が( ② )です。

9

②

★先生方へ～解答欄の ① ～ ⑦ は、問題結果登録の設問番号に対応しています。

1 地図の中の①～③の地図記号は、何を表しているでしょうか。□□□□ に書きましょう。



①  ②  ③

2 さくらさんは、自分たちの住んでいる北海道について調べ、ノートにまとめました。次の文の（ ① ）、（ ② ）に当てはまる言葉を、下の□□□□から選んで書きましょう。

(さくらさんのノート)

- ・青森県から見た北海道の位置を方位で表すと、（ ① ）にある。
- ・北海道は、日本の都道府県の中で一番面積が広い。
- ・道庁の所在地は（ ② ）市で、北海道の交通やけいざいの中心地として発てんしてきた。

④

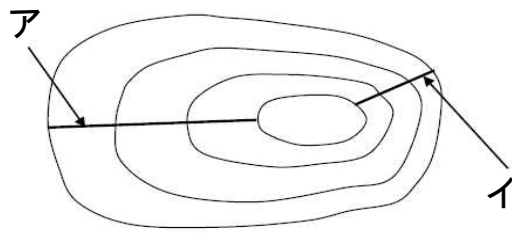
⑤

南 北 函館 札幌

※次のページにも、問題があります。

3

みさきさんのクラスでは、自分たちの住む町の地図から等高線を読み取り、土地の高さをたしかめました。次の問題に答えましょう。



【地図にかかっている等高線】



みさき

地図を見ると、アとイでは、イの方が土地のかたむきが急だね。



たくみ

みさきさん、どうしてそんなことが分かるの？



みさき

それはね、( ① ) だよ。

(1) ( ① ) に当てはまる文を下の  にある言葉を使って書きましよう。

等高線 間かく

6  
①

(2) みさきさんは、町の地図を見て、地形や土地の利用の様子をさらに調べたくなりました。調べる資料として、ふさわしいものを次のアからエまでの中から全て選んで書きましよう。

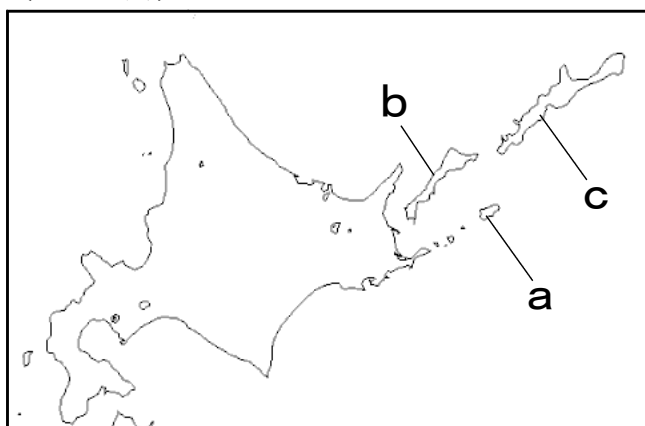
- ア 白地図
- イ 土地利用図
- ウ 衛星写真
- エ 学校の安全マップ

7

★先生方へ～解答欄の 1 ～ 10 は、問題結果登録の設問番号に対応しています。

1 次の略地図を見て、北方領土を説明した文章の a から c に当てはまる言葉を書きましょう。

〔略地図〕



【北方領土についての説明】

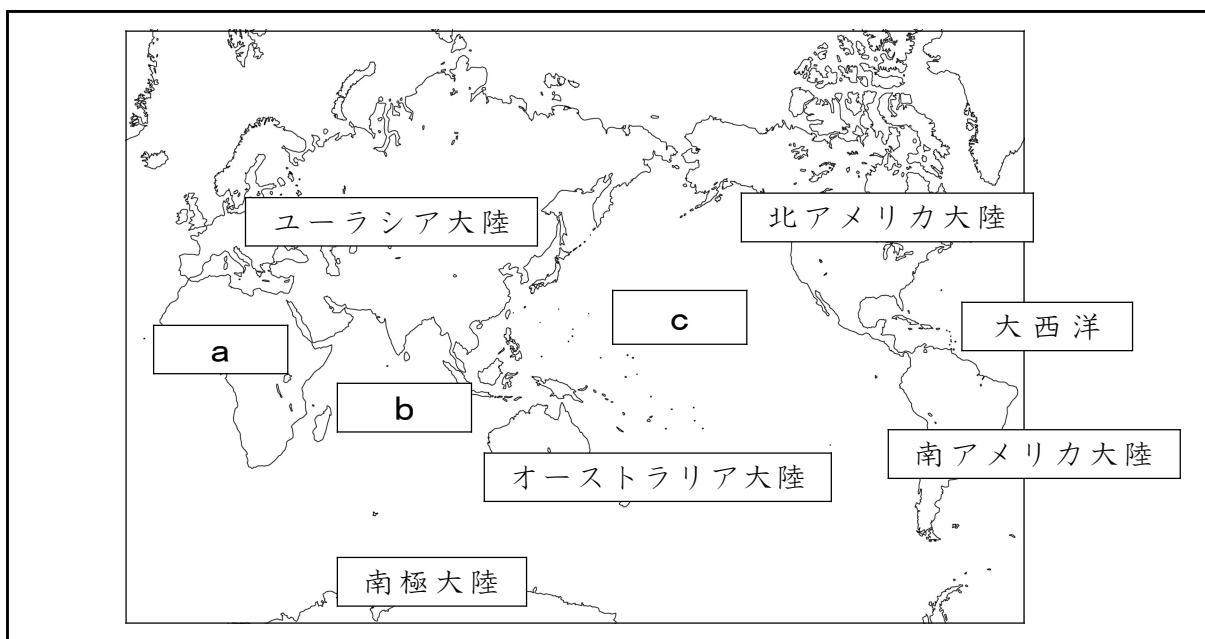
わが国固有の領土である北方領土は、歯舞群島、a 島、b 島、c 島からなっています。わが国の政府は、ロシア連邦政府に対して返かんを求めています。

1 a

2 b

3 c

2 次の略地図の a は大陸、b と c は海洋を表しています。a から c に当てはまる言葉を書きましょう。



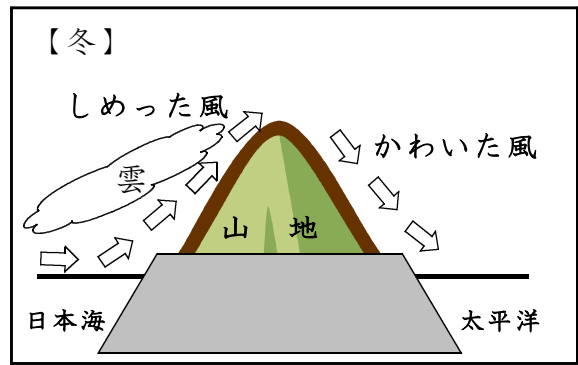
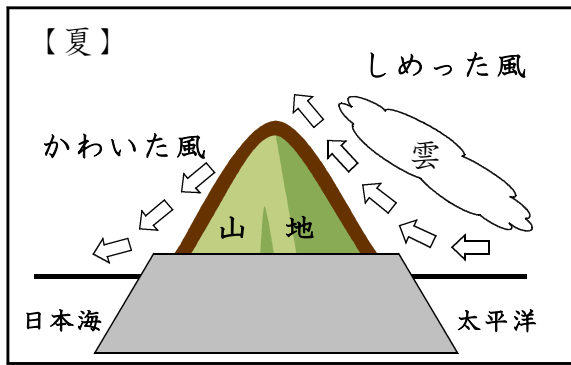
4 a

5 b

6 c

※次のページにも、問題があります。

3 次の問題に答えましょう。



(1) 上の図は、日本の夏や冬の季節にふく風について表しています。このように、季節によってふく方向が変わり、日本の気候に大きなえいきょうをあたえる風の名前を書きましょう。

7

(2) (1) の風がえいきょうした太平洋側と日本海側のそれぞれの気候の特ちょうについて、説明を書きましょう。

8

(3) 下の文中の **a** と **b** に当てはまる言葉を書きましょう。

日本では、6月から7月にかけて、主に北海道以外の地域では雨雲におおわれ、いく日も雨が降り続きます。これを **a** と言います。  
 また、夏から秋にかけて **b** におそわれます。強い風とたくさんの雨で、電柱がたおれたり、作物がだめになったりするなど、各地に大きなひ害が出ます。

9 **a**

10 **b**

★先生方へ～解答欄の 1 ～ 10 は、問題結果登録の設問番号に対応しています。

1 次の a から d のそれぞれに当てはまる言葉を書きましょう。なお、文中の a から c は、略地図中の a から c のことです。

わが国固有の領土である a 群島、 b 島、<sup>くなしり</sup>国後島、  
c 島の島々を d <sup>れんぽう</sup>といひます。  
わが国の政府は、ロシア連邦政府に対して d <sup>へんかん</sup>の返還を求  
めています。

〔略地図〕



a <sup>1</sup>

b <sup>2</sup>

c <sup>3</sup>

d <sup>4</sup>

※次のページにも、問題があります。

2

次の文を読んで、問題に答えましょう。

日本国憲法は、国民主権、基本的人権の尊重、平和主義の三つを原則とした日本の国や国民生活の基本を定めたものであり、わたしたちの暮らしにかかわる法やきまりは、日本国憲法にもとづいています。憲法には、政治に参加する権利などが定められていますが、守るべき義務も定められています。国民には **B** 義務があり、税金は公共施設の整備や警察や消防の仕事など、わたしたちの生活のために使われています。

(1) 文中の下線部 **A** について、国民主権との関係を説明した文として、正しいものを、下の **A** から **E** までの中から選び、記号で書きましょう。

- A** 国民は首相を選挙で選ぶことで、国の政治を動かすことができる。
- イ** 国民は国務大臣を選挙で選ぶことで、国の政治を動かすことができる。
- ウ** 国民は予算の内容を選挙で選ぶことで、国の政治を動かすことができる。
- エ** 国民は国会議員を選挙で選ぶことで、国の政治を動かすことができる。

5

(2) 文中の **B** に当てはまる適切な言葉を書きましょう。

6

(3) 日本国憲法では、天皇は日本の国や国民の象徴としていますが、天皇の主な仕事として、正しいものを、下の **A** から **E** までの中から選び、記号で書きましょう。

- A** 法律、条約などを公布する。
- イ** 予算を作成する。
- ウ** 最高裁判所長官を国会議員から選ぶ。
- エ** 外国と条約を結ぶ。

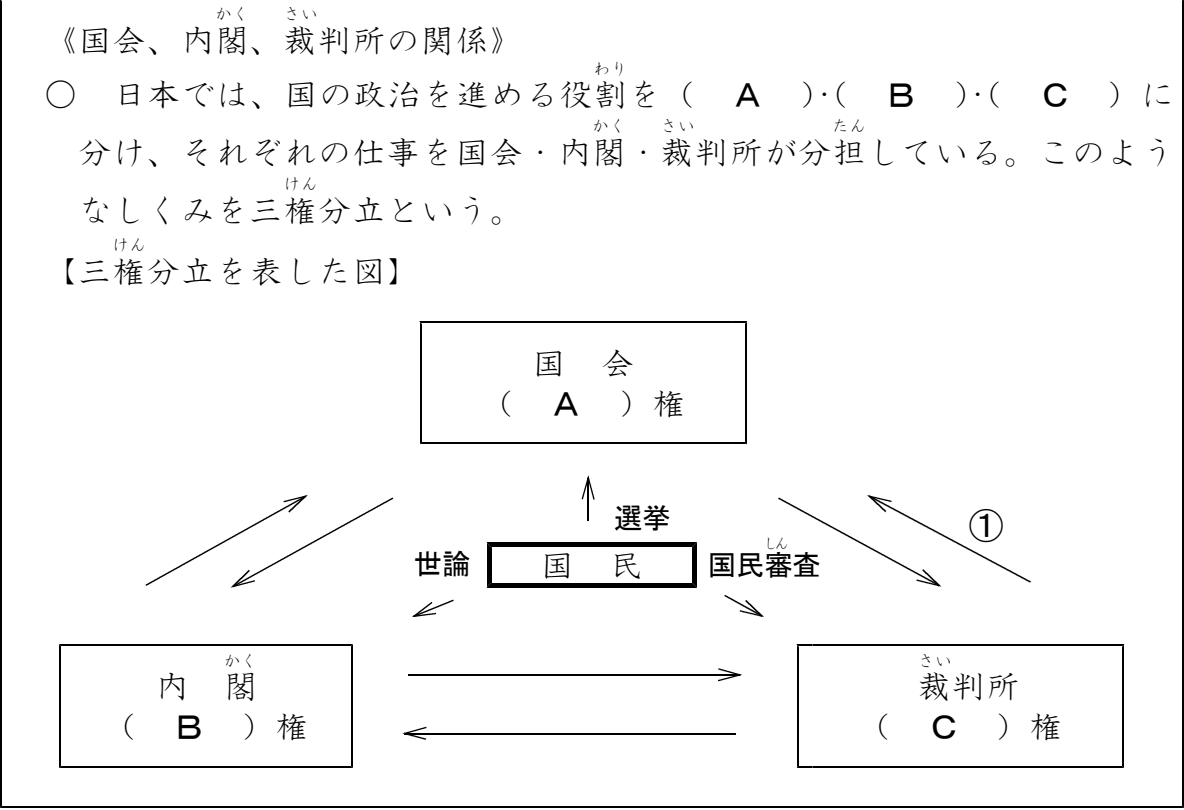
7

※次のページにも、問題があります。



3

ともりのさんは、国会、内閣、裁判所の関係をまとめました。次の問題に答えましょう。



(1) ( A )、( B )、( C )に当てはまる言葉の組合せとして、正しいものを、次のアからエまでのの中から選び、記号で書きましょう。

- |   |       |       |       |
|---|-------|-------|-------|
| ア | A: 司法 | B: 立法 | C: 行政 |
| イ | A: 立法 | B: 行政 | C: 司法 |
| ウ | A: 行政 | B: 司法 | C: 立法 |
| エ | A: 立法 | B: 司法 | C: 行政 |

8

(2) ①の矢印が表す役割を説明した文として、正しいものを、次のアからエまでのの中から選び、記号で書きましょう。

- ア 法律が憲法に違反していないか調べる。
- イ 国会の召集を決める。
- ウ 内閣総理大臣を指名する。
- エ 政治が憲法に違反していないか調べる。

9

※次のページにも問題があります。

(3) 裁判では、裁判員<sup>さい</sup>制度という制度がありますが、この制度の説明を「国民」という言葉を使い、30字以内で書きましょう。

10									10字
									20字
									30字