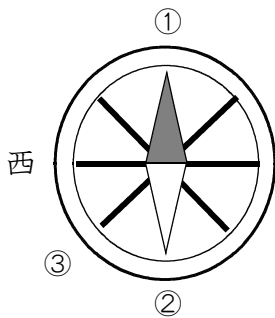


★先生方へ～解答欄の 1～10 は、問題結果登録の設問番号に対応しています。

1 はづきさんのクラスでは、社会の時間に町の様子について調べたことを絵地図にまとめることにしました。はづきさんのグループでは、学校の屋上に上がり、絵地図を見直しています。次の問題に答えましょう。

(1) 北におかって立ち、方位じしんを見たとき、①と②が示す方位として正しいものを、次のアからウまでの中からそれぞれ1つ選び、記号で答えましょう。



ア 東 イ 北 ウ 南

①

②

(2) はづきさんは、③の方向に下の写真の看板を見つけました。③の示す方位としせつの名前を、次のアからエまでの中からそれぞれ1つ選び、記号で答えましょう。

〔③の方位〕

ア 北東 イ 南東 ウ 南西 エ 北西



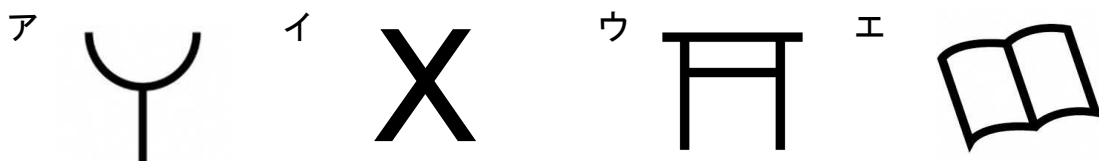
〔しせつの名前〕

ア 消防署 イ 博物館 ウ 図書館 エ ゆうびん局

③の方位

しせつの名前

(3) はづきさんは、西の方向に「交番」を見つけたので、絵地図に「交番」の地図記号を書き足すことにしました。「交番」の地図記号として、正しいものを、次のアからエまでの中から1つ選び、記号で答えましょう。



5

※次のページにも、もんだいがあります。

2

ゆうきさんたちは、市の様子のうつり変わりについて、4つのカードにまとめ、感じたことを伝え合いました。

①

- ・50年ほど前には、電車が走り、大きな道路ができた。
- ・40年ほど前には、高速道路が作られた。
- ・今は、地下鉄の新しい駅が作られた。

②

- ・80年ほど前には、空しゅうや大火事で多くの人がなくなった。
- ・今は、お年よりの数がふえ、外国の人がたくさん住むようになった。

③

- ・60年ほど前には、田や畑が多かった。
- ・50年ほど前には、海がうめ立てられた。
- ・今は、大きな工場やマンションなどのたて物がふえた。

④

- ・50年ほど前には、学校がふえ、図書館や公園がつくられた。
- ・今は、しょうがいのある人などにべんりなたて物が作られた。



人口がふえたから、図書館や公園などの公共しせつが新しく作られるようになったんじゃないかな。



海がうめ立てられ、広い土地ができたことで大きな工場やマンションなどが作られたんだね。



ぼくは、かんきょうによい電車やバスが使われるようになってほしいな。なぜなら、

⑤

(1) ① から ④ のカードの題名として、当てはまる言葉を、次のアからエまでの中からそれぞれ1つ選び、記号で答えましょう。

ア 人口    イ 土地の使われ方    ウ 公共しせつ    エ 交通

① <sup>6</sup>

② <sup>7</sup>

③ <sup>8</sup>

④ <sup>9</sup>

(2) ⑤ に入る文として、正しいものを、次のアからエまでの中から1つ選び、記号で答えましょう。

ア 地いきの自然やかんきょうを守ることが大切だと思うからです。

イ しょうがいのある人などにべんりな交通きかんが少ないからです。

ウ 外国の人がもっとふえて交流できるといいと思うからです。

エ いろいろなところに行けるようになると思うからです。

<sup>10</sup>

★先生方へ～解答欄の 1 ～ 8 は、問題結果登録の設問番号に対応しています。

1

次の①から④の地図記号は、何を表しているでしょうか。正しいものを、次のアからオまでの中からそれぞれ1つ選び、記号で答えましょう。

【地図記号】



ア 神社  
イ 図書館  
ウ 寺院（寺）  
エ 果樹園（果物畑）  
オ 消防署

① 1

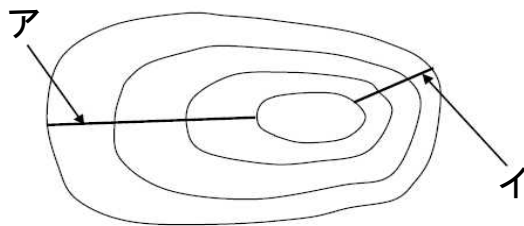
② 2

③ 3

④ 4

2

みさきさんのクラスでは、自分たちの住む町の地図から等高線を読み取り、土地の高さをたしかめました。次の問題に答えましょう。



【地図にかかっている等高線】



地図を見ると、アとイでは、イの方が土地のかたむきが急だね。



みさきさん、どうしてそんなことが分かるの？



それはね、イの方が（ ① ）だよ。

(1) ( ① ) に当てはまる文として、正しいものを、次のアからエまでの中から1つ選び、記号で答えましょう。

ア 等高線と等高線の間かくがせまいから  
イ 等高線の本数が少ないから  
ウ 等高線と等高線の間かくがひろいから  
エ 等高線の本数が多いから

5

(2) みさきさんは、地形や土地の利用の様子をさらに調べようと思いました。調べる資料としてふさわしいものを、次のアからエまでの中から1つ選び、記号で答えましょう。

ア 白地図  
イ 衛星写真  
ウ 人口のグラフ  
エ 学校の安全マップ

6

※次のページにも、問題があります。

3

たかしさんは、県内で昔から受けつがれてきた阿波人形浄瑠璃あわにんぎょうじゅうるりについて調べています。調べたことを下のような年表にまとめました。

約400年前 ～300年前	淡路島 <small>あわじ</small> でさかんだった人形浄瑠璃 <small>にんぎょうじゅうるり</small> が、徳島県 <small>とくしま</small> に伝わり、その後、阿波人形浄瑠璃 <small>あわにんぎょうじゅうるり</small> が始まったとされる。
約150年前	阿波人形浄瑠璃 <small>あわにんぎょうじゅうるり</small> がさかんになり、しばいをする農村舞台 <small>ぶたい</small> も多く建てられる。
約80年前	阿波人形浄瑠璃 <small>あわにんぎょうじゅうるり</small> が行われる回数がへる。
約70年前	戦争 <small>せんそう</small> が終わる。
約60年前	農村舞台 <small>ぶたい</small> の多くが使われなくなる。
約40年前	農村舞台 <small>ぶたい</small> で阿波人形浄瑠璃 <small>あわにんぎょうじゅうるり</small> が行われるようになる。
約20年前	阿波人形浄瑠璃 <small>あわにんぎょうじゅうるり</small> が国の重要な文化財 <small>じゅうようぶんかざい</small> に指定される。
現在	ふたたび使われる農村舞台 <small>ぶたい</small> の数がふえる。

(1) 年表を見て、阿波人形浄瑠璃あわにんぎょうじゅうるりの説明について正しいものを、次のアからエまでの中から1つ選び、記号で答えましょう。

- ア 阿波人形浄瑠璃あわにんぎょうじゅうるりは、これまでとぎれることなく続いている。
- イ 戦争後せんそうは、農村舞台ぶたいで阿波人形浄瑠璃あわにんぎょうじゅうるりが行われたことはない。
- ウ 阿波人形浄瑠璃あわにんぎょうじゅうるりが始まったのは、およそ100年前である。
- エ 阿波人形浄瑠璃あわにんぎょうじゅうるりは、県の重要な文化財じゅうようぶんかざいに指定されている。

7

(2) たかしさんは、人形つかいの方に話を聞いたり、体験たいけんしたりしました。



地域ちいきで受けつがれてきたすばらしい伝統芸能でんとうげいのうを、多くの人に見てほしいです。また、子どもたちに伝えていきたいという思いから、地域ちいきの小学校に出かけて、しばいを行っています。

人形つかいの方

たかしさんは、人形つかいの方の思いについて分かったことを発表しました。( )に入る文として、正しいものを、次のアからエまでの中から1つ選び、記号で答えましょう。

( )が大切だと分かりました。人形つかいの方のやりがいや、体験たいけんして感じた楽しかったところをポスターなどにまとめて、まわりの人たちに伝えていきたいです。




たかしさん

- ア 一度なくなつた伝統芸能でんとうげいのうを地域ちいきの子どもたちに伝えること
- イ 伝統芸能でんとうげいのうを楽しいと感じる一部の人に伝えたいこと
- ウ より多くの人に知ってもらい、伝統芸能でんとうげいのうを守り続けること
- エ 伝統芸能でんとうげいのうはすばらしいので、大人になってから見ること

8

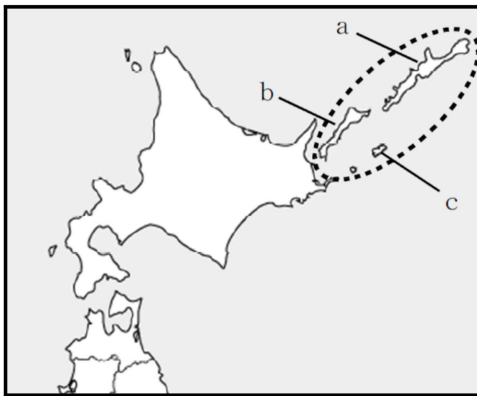
〔社会〕小6 組 番 氏名

★先生方へ～解答欄の 1 ～ 8 は、問題結果登録の設問番号に対応しています。

1 略地図の  で囲まれた島々について述べた次の文の ① に当てはまる言葉を、下のアからエまでの中から1つ選び、記号で答えましょう。  
また、下線部の島の位置を略地図の中からそれぞれ選んだときの組合せとして正しいものを、オからクまでの中から1つ選び、記号で答えましょう。

はほまいぐんとう しこたんとう くなしりとう えとろふとう  
歯舞群島、1色丹島、2国後島、3択捉島からなる ① は、日本固有の領土であり、針葉樹林が広がり、周辺の海域は、水産資源が豊富である。

〔略地図〕



- ①
- ア 千島列島
  - イ 尖閣諸島
  - ウ 北方領土
  - エ 小笠原諸島
- 1

- オ 1 - a、2 - b、3 - c
- カ 1 - c、2 - a、3 - b
- キ 1 - a、2 - c、3 - b
- ク 1 - c、2 - b、3 - a

2

2 工業地帯別の工業生産額の表の A、B、C に当てはまる言葉を、下のアからオまでの中からそれぞれ1つ選び、記号で答えましょう。

〔工業地帯別の工業生産額（2018年 日本国勢図絵2021/22）〕

	B	金属工業	化学工業	食料品工業	その他
A 工業地帯 60兆2425億円	69.1%	9.6%	6.4%	4.6%	10.3%
C 工業地帯 34兆5443億円	37.7%	20.9%	16.8%	10.9%	13.7%
京浜工業地帯 26兆4195億円	49.3%	8.9%	18.0%	10.9%	12.9%

- ア 東海
- イ 阪神
- ウ 中京
- エ 機械工業
- オ せんい工業

3

4

5

次のページも問題があります。

3

あやかさんたちは、情報<sup>じょうほう</sup>について学習したことを、表にまとめました。(1)から(3)の問いに答えましょう。

情報とわたしたちの暮らし	社会を変える情報	情報を生かすわたしたち
<ul style="list-style-type: none"> <li>わたしたちが知りたい情報は、テレビやラジオ、①新聞、インターネットなどを通じて知ることができる。</li> <li>同じできごとを伝える情報でも、情報の伝え手が変わると、表現のしかたも変わる。</li> </ul>	<ul style="list-style-type: none"> <li>コンピュータや携帯電話<sup>けいたい</sup>のふきゅうにより、インターネットを使い、多くの情報を共有したり伝えたりする( ② )を利用して、電子マネーでの支払いなど、わたしたちの身近なところで生活が便利になっている。</li> </ul>	<ul style="list-style-type: none"> <li>インターネットの利用が増えたが、今までにはなかった問題も起きるようになってきた。</li> <li>③インターネットを使って情報を発信するときに、大切なことがある。</li> </ul>

(1) 下線部①の特色として、正しいものを、次のアからエまでのの中から1つ選び、記号で答えましょう。

- ア 音声で情報を伝え、聞く人にとって身近な情報を伝える。
- イ 知りたい情報を自分で検索<sup>けんさく</sup>し、文字や映像<sup>えいぞう</sup>などで知ることができる。
- ウ 音声や動画で、わかりやすく情報を伝える。
- エ 情報の信頼性<sup>しんらいせい</sup>が高く、持ち歩いたり、記事を切りぬいて保存<sup>ほぞん</sup>したりできる。

6

(2) ( ② )に入る言葉を、次のアからエまでのの中から1つ選び、記号で答えましょう。

- ア 人工知能<sup>ぎじゅつ</sup>
- イ 情報通信技術
- ウ マスメディア
- エ SNS<sup>エス エヌ エス</sup>

7

(3) 下線部③について説明した文として、正しいものを、次のアからエまでのの中から1つ選び、記号で答えましょう。

- ア 情報の内容に責任をもち、相手のことを考えて発信すること。
- イ 自分が考えたことを、一部の人だけに分かるように発信すること。
- ウ 人の役に立つと思った情報は、すぐに発信すること。
- エ 他人の個人情報を集めて、相手の許しを得ずに発信すること。

8